

विषय कोड

1 0 3 1

## राज्य स्तरीय आकलन (SA-1)

सत्र 2019-20

कक्षा-1

विषय – गणित

हिन्दी माध्यम

समय – 02:00 घंटे

पूर्णांक-

3 0

परीक्षार्थी आई डी

--	--	--	--	--	--	--	--	--	--

परीक्षार्थी का नाम ..... शाला का नाम .....

प्राप्तांक (अंकों में)

--	--

(शब्दों में) .....

हस्ताक्षर प्रधान पाठक..... हस्ताक्षर निरीक्षक .....

## केवल मूल्यांकन हेतु

PAPER CODE


STUDENT  
CODE

1	9	केन्द्राध्यक्ष हस्ताक्षर एवं सील	हस्ताक्षर मूल्यांकनकर्ता
2	10		
3	11		
4	12		
5	13		
6	14		
7	15		
8		दिनांक:	दिनांक:
कुल प्राप्तांक (Total Marks Obtained)			

निर्देश :

1. सभी प्रश्न हल करना अनिवार्य है।
2. सभी प्रश्नों के लिए 2 अंक निर्धारित है।

सही विकल्प चुनकर (✓) निशान लगाओ।

प्रश्न 1.  जैसी आकृति कौन-सी हैं?



प्रश्न 2. दिए गए विकल्पों में से कौन-सा वाहन सबसे अधिक भारी होता है?



प्रश्न 3. दिए गए लड़के के चित्र में शरीर का कौन-सा अंग आधार है।



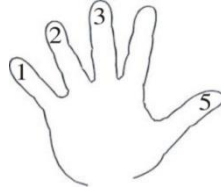
(अ) पैर (ब) कमर (स) हाथ (द) सिर

प्रश्न 4. दिए गए चित्रों के बराबर संख्या कौन-सी होगी?



(अ) 3 (ब) 4 (स) 5 (द) 6

प्रश्न 5. दिए गए चित्र में ऊँगली पर कौन-सी संख्या आएगी?



(अ) 2            (ब) 3            (स) 4            (द) 5

प्रश्न 6. जोड़ने पर कौन-सी संख्या प्राप्त होगी?



(अ) 2            (ब) 5            (स) 7            (द) 10

प्रश्न 7. दिए गए बॉक्स में कौन-सी संख्या आएगी?

$$\begin{array}{r} 5 \\ + 5 \\ \hline \end{array}$$

(अ) 0            (ब) 5            (स) 10            (द) 55

प्रश्न 8. दिए गए चित्र में एक तीली कम करने पर कौन-सा विकल्प सही होगा?



(अ)     (ब)     (स)     (द) 

प्रश्न 9. संख्या 19 के ठीक पहले कौन-सी संख्या होगी ?

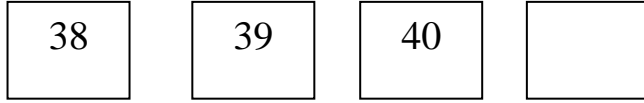
(अ) 17            (ब) 18            (स) 19            (द) 20

प्रश्न 10. बीच की संख्या कौन-सी होगी?

36		38
----	--	----

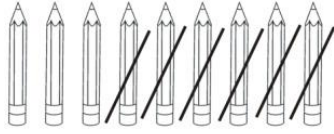
(अ) 30            (ब) 34            (स) 37            (द) 39

प्रश्न 11. दिए गए क्रम की अगली संख्या कौन-सी होगी?



- (अ) 14      (ब) 31      (स) 41      (द) 51

प्रश्न 12. काटने पर कितने बचे?



$$9 - 6 = \square$$

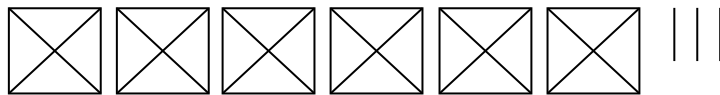
- (अ) 3      (ब) 6      (स) 9      (द) 15

प्रश्न 13. घटाने पर कौन-सी संख्या आएगी?

$$\begin{array}{r} 9 \\ - 9 \\ \hline \square \end{array}$$

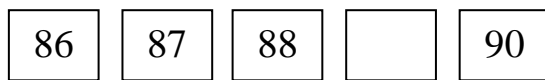
- (अ) 0      (ब) 9      (स) 18      (द) 99

प्रश्न 14. यदि  $\square$  (with diagonal lines) = 10 तथा  $|$  = 1 हो, तो दिए गए चित्र के लिए सही संख्या कौन-सी होगी।



- (अ) 3      (ब) 53      (स) 60      (द) 63

प्रश्न 15. डिब्बे में कौन-सी संख्या होगी?



- (अ) 79      (ब) 89      (स) 91      (द) 98